

**Проверочная работа
по МАТЕМАТИКЕ****5 класс****Образец****Пояснение к образцу проверочной работы**

На выполнение работы по математике отводится два урока (не более 45 минут каждый). Работа состоит из двух частей и включает в себя 17 заданий.

Обе части работы могут выполняться в один день с перерывом не менее 10 минут или в разные дни.

При выполнении работы не разрешается пользоваться учебниками, рабочими тетрадями, справочниками, калькулятором.

При необходимости можно пользоваться черновиком. Записи в черновике проверяться и оцениваться не будут.



В образце представлено по несколько примеров заданий 1 и 5. В реальных вариантах проверочной работы на каждую из этих позиций будет предложено только одно задание.

Таблица для внесения баллов участника

	Часть 1											
Номер задания	1	2	3	4(1)	4(2)	5	6	7	8	9	10	11
Баллы												
	Часть 2											
Номер задания	12	13	14	15	16	17	Сумма баллов		Отметка за работу			
Баллы												

Инструкция по выполнению заданий части 1 проверочной работы

На выполнение заданий части 1 проверочной работы по математике отводится один урок (не более 45 минут). Часть 1 включает в себя 11 заданий.

Ответы на задания запишите в поля ответов в тексте работы. Если Вы хотите изменить ответ, зачеркните его и запишите рядом новый.

При выполнении работы не разрешается пользоваться учебниками, рабочими тетрадями, справочниками, калькулятором.

При необходимости можно пользоваться черновиком. Записи в черновике проверяться и оцениваться не будут.

Советуем выполнять задания в том порядке, в котором они даны. В целях экономии времени пропускайте задание, которое не удаётся выполнить сразу, и переходите к следующему. Если после выполнения работы у Вас останется время, то Вы сможете вернуться к пропущенным заданиям.

Желаем успеха!

Часть 1

1

Выполните сложение: $\frac{2}{7} + \frac{3}{7}$.

Ответ:

ИЛИ

Представьте в виде обыкновенной дроби число $2\frac{3}{7}$.

Ответ:

ИЛИ

Выполните вычитание: $2,96 - 1,03$.

Ответ:

2

В автобусе 60 мест для пассажиров. Две пятых мест уже заняты. Сколько свободных мест в автобусе?

Ответ:

3

Каким числом нужно заменить букву А, чтобы получилось верное равенство?
 $A : 31 = 26$

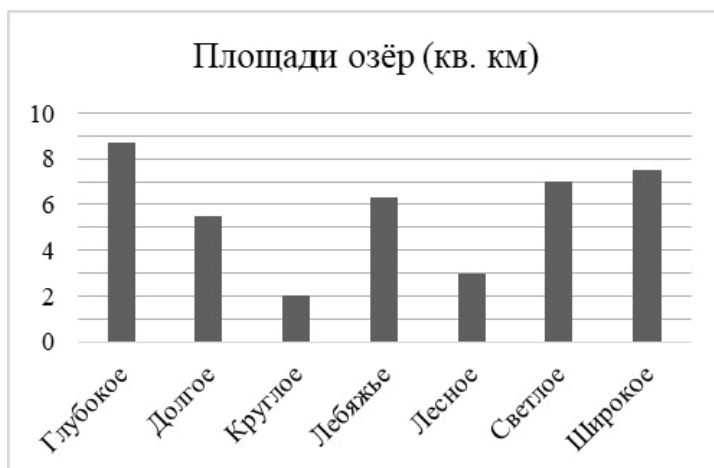
Ответ:

4

На диаграмме представлены данные о площади поверхности нескольких озёр. Первое место по площади занимает озеро Глубокое.

Ответьте на вопросы.

1) Какое из этих озёр занимает третье место по площади поверхности?



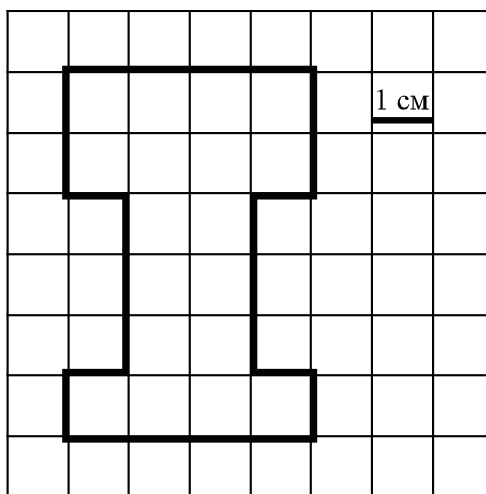
Ответ:

2) На сколько квадратных километров площадь озера Светлого больше площади озера Лесного?

Ответ:

5

Бумага расчерчена на квадраты со стороной 1 см. Найдите площадь нарисованной фигуры. Ответ дайте в кв. см.

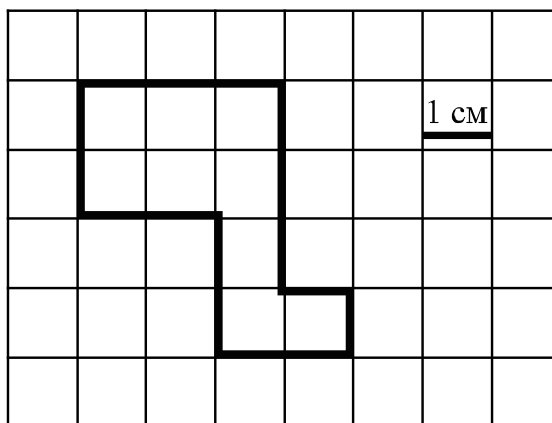


Ответ:

ИЛИ

5

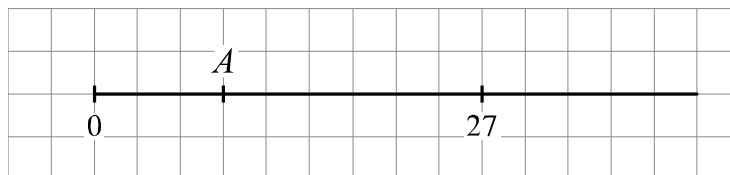
На клетчатой бумаге со стороной клетки 1 см нарисована фигура. Найдите периметр этой фигуры. Ответ дайте в сантиметрах.



Ответ:

6

Найдите координату точки A , отмеченной на числовом луче.



Ответ:

7

Два токаря выточили 220 деталей за 2 часа. Сколько деталей в час вытачивает каждый токарь, если известно, что в час они вытачивают одинаковое количество деталей?

Ответ:

8

[illegible]

9

[illegible]

10

УТВЕРЖДЕНИЯ

A) $\frac{2}{7}$

Б) $\frac{15}{19}$

B) $\frac{20}{9}$

$$\Gamma) \quad \frac{11}{8}$$

4) Число больше 0,5, но меньше 1.



А	Б	В	Г

11

[illegible]

Инструкция по выполнению заданий части 2 проверочной работы

На выполнение заданий части 2 проверочной работы по математике отводится один урок (не более 45 минут). Часть 2 включает в себя 6 заданий.

Во всех заданиях запишите решение и ответ в указанном месте. Если Вы хотите изменить ответ, зачеркните его и запишите рядом новый.

При выполнении работы не разрешается пользоваться учебниками, рабочими тетрадями, справочниками, калькулятором.

При необходимости можно пользоваться черновиком. Записи в черновике проверяться и оцениваться не будут.

Советуем выполнять задания в том порядке, в котором они даны. В целях экономии времени пропускайте задание, которое не удаётся выполнить сразу, и переходите к следующему. Если после выполнения работы у Вас останется время, то Вы сможете вернуться к пропущенным заданиям.

Желаем успеха!

12

Решение.

Ответ:

13

Найдите значение выражения $4800 : 24 + 4 \cdot (81 - 63) : 2$.

Решение.

Ответ:

14

В магазине продаётся несколько видов творога в различных упаковках и по различной цене. В таблице указана масса каждой упаковки и её цена. Килограмм какого творога стоит меньше всего? В ответе запишите наименование и стоимость одного килограмма этого творога.

Наименование	Масса упаковки	Цена за упаковку
«Любимый»	200 г	150 руб.
«Утренний»	250 г	175 руб.
«Рассыпчатый»	500 г	355 руб.
«Деревенский»	200 г	165 руб.

Решение.

Ответ:

15

Одна сторона прямоугольника равна 7 см, его периметр – 34 см. Найдите площадь этого прямоугольника.

Решение.

Ответ:

16

За первый час велосипедист проехал четвертую часть всего пути; за второй – третью часть. Затем он сделал остановку. После остановки ему осталось проехать ещё 20 км. Сколько километров составляет весь путь велосипедиста?

Решение.

Ответ:

17

Через пункты А и Б, расстояние между которыми 300 км, проходит прямолинейное шоссе. Из пунктов А и Б одновременно выехали автомобиль и автобус. Автомобиль едет со скоростью 80 км/ч, автобус – со скоростью 50 км/ч. Какое расстояние будет между автомобилем и автобусом через час?

Найдите все возможные варианты.

Решение.

Ответ:

Система оценивания проверочной работы

Часть 1

Номер задания	1	2	3	4(1)	4(2)	5	6	7	8	9	10	11	Итого
Балл	1	1	1	1	1	1	1	1	1	1	1	1	12

Номер задания	Правильный ответ
1	$\frac{5}{7}$ ИЛИ $\frac{17}{7}$ ИЛИ 1,93
2	36
3	806
4(1)	Светлое
4(2)	4
5	18 ИЛИ 16
6	9
7	55
8	360
9	5
10	2431
11	27

Система оценивания проверочной работы

Часть 2

Номер задания	12	13	14	15	16	17	Итого
Балл	2	2	2	2	2	2	12

- 12 Принтер печатает 72 страницы за 3 минуты. За сколько минут этот принтер напечатает 120 страниц?

Решение и указания к оцениванию	Баллы
Решение. В минуту принтер печатает: $72 : 3 = 24$ страницы. Время печати 120 страниц: $120 : 24 = 5$ минут. Возможна другая последовательность действий. Ответ: 5 минут	
Обоснованно получен верный ответ	2
Дан верный ответ, но решение недостаточно обосновано. ИЛИ Ход решения верный, но допущена вычислительная ошибка	1
Решение не соответствует ни одному из критериев, перечисленных выше	0
Максимальный балл	2

- 13 Найдите значение выражения $4800 : 24 + 4 \cdot (81 - 63) : 2$.

Решение и указания к оцениванию	Баллы
Решение. 1) $4800 : 24 = 200$; 2) $81 - 63 = 18$; 3) $4 \cdot 18 : 2 = 36$; 4) $200 + 36 = 236$. Ответ: 236	
Обоснованно получен верный ответ	2
Ход решения верный, но допущена вычислительная ошибка	1
Решение не соответствует ни одному из критериев, перечисленных выше	0
Максимальный балл	2

14

В магазине продаётся несколько видов творога в различных упаковках и по различной цене. В таблице указана масса каждой упаковки и её цена. Килограмм какого творога стоит меньше всего? В ответе запишите наименование и стоимость одного килограмма этого творога.

Наименование	Масса упаковки	Цена за упаковку
«Любимый»	200 г	150 руб.
«Утренний»	250 г	175 руб.
«Рассыпчатый»	500 г	355 руб.
«Деревенский»	200 г	165 руб.

Решение и указания к оцениванию	Баллы
<p>Решение.</p> <p>В одном килограмме пять упаковок по 200 г, четыре упаковки по 250 г или две упаковки по 500 г.</p> <p>1 кг творога «Любимый» стоит: $150 \cdot 5 = 750$ рублей.</p> <p>1 кг творога «Утренний» стоит: $175 \cdot 4 = 700$ рублей.</p> <p>1 кг творога «Рассыпчатый» стоит: $355 \cdot 2 = 710$ рублей.</p> <p>Творог «Деревенский» стоит дороже, чем «Любимый».</p> <p>Возможна другая последовательность действий.</p> <p>Ответ: творог «Утренний»; 700 рублей</p>	
Обоснованно получен верный ответ	2
<p>Дан верный ответ, но решение недостаточно обосновано.</p> <p>ИЛИ</p> <p>Ход решения верный, но допущена вычислительная ошибка</p>	1
Решение не соответствует ни одному из критериев, перечисленных выше	0
Максимальный балл	2

- 15 Одна сторона прямоугольника равна 7 см, его периметр – 34 см. Найдите площадь этого прямоугольника.

Решение и указания к оцениванию	Баллы
Решение. Вторая сторона прямоугольника равна: $(34 - 7 - 7) : 2 = 10$ см. Площадь прямоугольника равна: $7 \cdot 10 = 70$ см ² . Возможна другая последовательность действий. Ответ: 70 см ²	
Обоснованно получен верный ответ	2
Дан верный ответ, но решение недостаточно обосновано. ИЛИ Ход решения верный, но допущена вычислительная ошибка	1
Решение не соответствует ни одному из критериев, перечисленных выше	0
Максимальный балл	2

- 16 За первый час велосипедист проехал четвертую часть всего пути; за второй – третью часть. Затем он сделал остановку. После остановки ему осталось проехать ещё 20 км. Сколько километров составляет весь путь велосипедиста?

Решение и указания к оцениванию	Баллы
Решение. Найдём, какую долю всего пути составляют 20 км. $1 - \left(\frac{1}{4} + \frac{1}{3} \right) = 1 - \frac{7}{12} = \frac{5}{12}$. Тогда весь путь равен 48 км. Возможна другая последовательность действий. Ответ: 48 км	
Обоснованно получен верный ответ	2
Дан верный ответ, но решение недостаточно обосновано. ИЛИ Ход решения верный, но допущена вычислительная ошибка	1
Решение не соответствует ни одному из критериев, перечисленных выше	0
Максимальный балл	2

17

Через пункты А и Б, расстояние между которыми 300 км, проходит прямолинейное шоссе. Из пунктов А и Б одновременно выехали автомобиль и автобус. Автомобиль едет со скоростью 80 км/ч, автобус – со скоростью 50 км/ч. Какое расстояние будет между автомобилем и автобусом через час?

Найдите все возможные варианты.

Решение и указания к оцениванию	Баллы
<p>Решение.</p> <p>Если автомобиль и автобус выехали навстречу друг другу, расстояние между ними через час будет: $300 - (80 + 50) = 170$ км.</p> <p>Если автомобиль «догоняет» автобус, расстояние между ними через час будет: $300 - (80 - 50) = 270$ км.</p> <p>Если автобус «догоняет» автомобиль, расстояние между ними через час будет: $300 + (80 - 50) = 330$ км.</p> <p>Если автомобиль и автобус выехали в противоположные стороны, расстояние между ними через час будет: $300 + (80 + 50) = 430$ км.</p> <p>Возможна другая последовательность действий.</p> <p>Ответ: или 170 км, или 270 км, или 330 км, или 430 км</p>	
Получены все верные ответы	2
Верно указаны два или три из четырёх ответов	1
Решение не соответствует ни одному из критериев, перечисленных выше	0
Максимальный балл	2

Система оценивания выполнения всей работы

Максимальный первичный балл за выполнение работы — 24.

Рекомендуемая таблица перевода баллов в отметки по пятибалльной шкале

Отметка по пятибалльной шкале	«2»	«3»	«4»	«5»
Первичные баллы	0–6	7–12	13–18	19–24